

学校法人 仙台育英学園 秀光中等教育学校
2016年度 第一次仙台・山形選抜試験

社 会

(第1問～第4問)

注意

- ・試験開始の合図があるまで、問題用紙を開かないこと。
- ・この問題冊子は9ページあります。
- ・答えはすべて解答用紙に記入ください。

第1問 次の【問題Ⅰ】【問題Ⅱ】の各問いに答えなさい。

【問題Ⅰ】中国に関する次の文章を読み、各問いに答えなさい。

中国の地形について見てみると、華北には（ A ）が流れ、華中にはアジアで最長の（ B ）が中部・南部の広い範囲を覆っている。（ B ）の上流域には（ C ）高原が広がり、標高が高いことから人口密度が低くなっているのが特徴的である。

また、中国は総人口13億人の世界最大の人口大国であることで知られる。1979年から人口増加を抑えるために①一人っ子政策がとられ、人口増加率が下がってきた。この政策は2013年から緩和され、2015年には廃止された。

中国の経済に目を向けてみると、1970年代末から経済的な発展が成し遂げられた。1979年より華南に（ D ）を設け、②外国の企業を積極的に受け入れた。現在では、様々な企業が中国を中心として貿易を展開している。

問1 文章中のA～Dに入る語句の組み合わせとして適当なものを、次のア～オからひとつ選んで記号で答えなさい。

	A	B	C	D
ア	長江	黄河	モンゴル	自由貿易地域
イ	黄河	長江	チベット	経済特区
ウ	黄河	長江	モンゴル	経済特区
エ	長江	黄河	チベット	自由貿易地域
オ	長江	黄河	チベット	経済特区

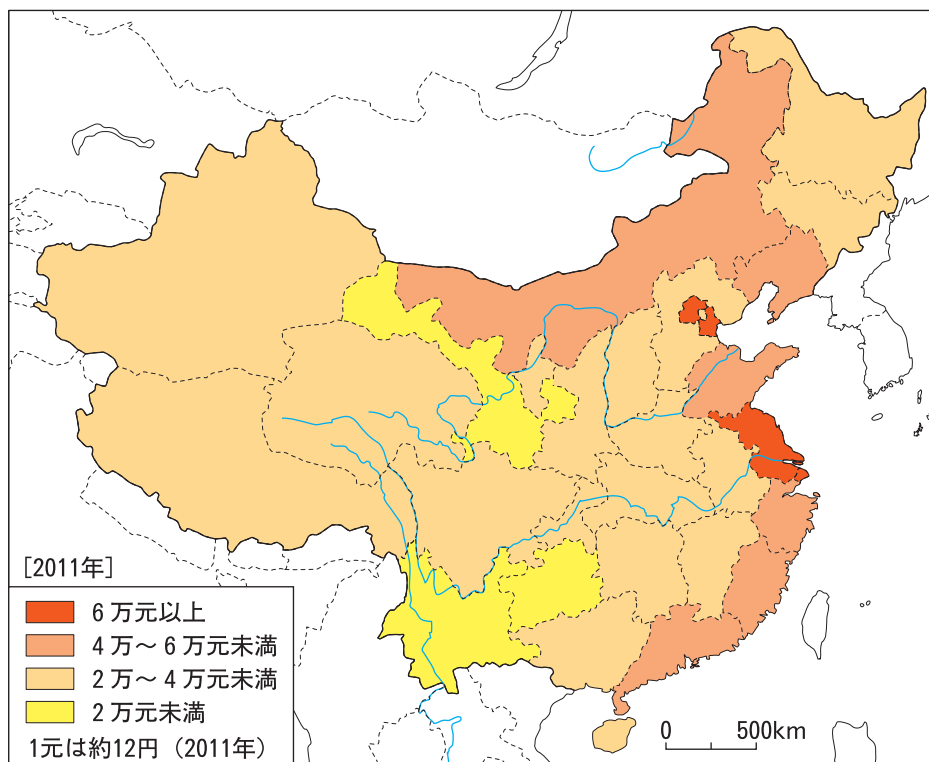
問2 下線部①によって引き起こされた問題として適当でないものを、次のア～エからひとつ選んで記号で答えなさい。

- ア 出生届を出さない「闇っ子」が増加した。
- イ 男女比の割合に差が生じ、女性の比率が多くなった。
- ウ 若年労働者不足に陥るのではないかという不安が広まった。
- エ 過保護問題が起き、小皇帝と言われる子供が増加し社会問題となった。

(答えはすべて解答用紙に記入しなさい)

問3 下線部②を行ったことなどがきっかけで、**図1**のように中国の一人当たりのGDP（国内総生産）は増加し、現在では日本を抜き世界第2位に成長した。一方で近年では様々な問題も発生している。**図1**から読み取れることを説明した文として適当なものを、下の**ア～エ**からひとつ選んで記号で答えなさい。

図1 中国の地域別GDP（一人あたり）



（『中国統計年鑑 2012 年版』より作成）

- ア 沿岸部と内陸部に住む人々の間で、経済格差が生じている。
- イ 内陸部に人口が集中し、公害が問題視されている。
- ウ 大きな川の中流域に人口が集中し、生活排水が川に流され環境破壊につながっている。
- エ 沿岸部から内陸部へ仕事を求めて人々が移動し、沿岸部では過疎化が問題となっている。

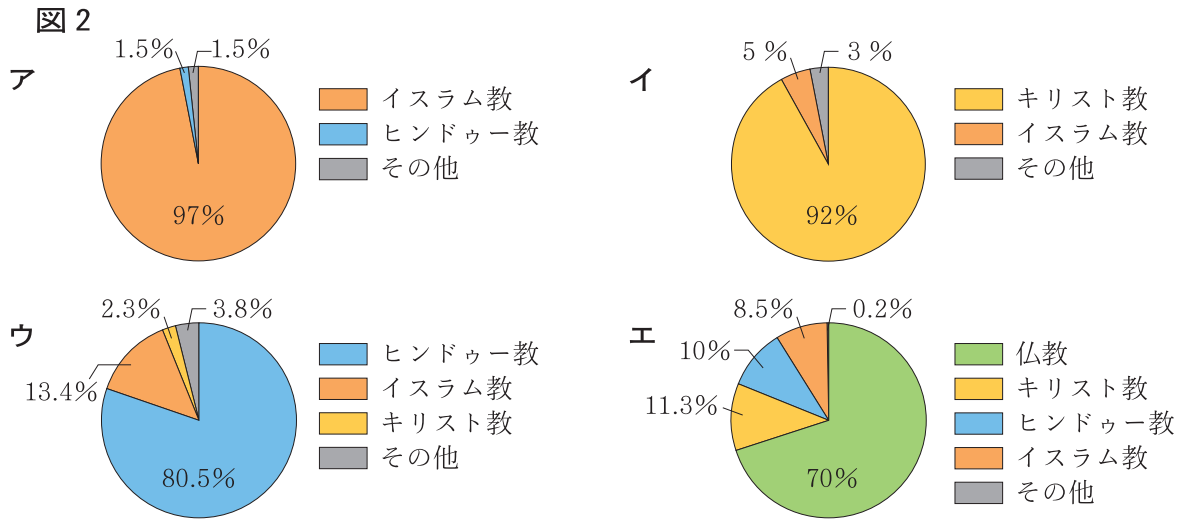
問4 中国には確認されているだけでも56の民族がいるとされているが、約90%はある特定の民族によって占められている。その民族名を、次の**ア～エ**からひとつ選んで記号で答えなさい。

- ア ウイグル族 イ モンゴル族 ウ 漢民族 エ チベット族

（答えはすべて解答用紙に記入しなさい）

【問題Ⅱ】 インドに関する次の各問いに答えなさい。

問1 下の図2はアジアの主な国で信仰されている宗教の割合を示したものである。インドを表す図を、次のア～エからひとつ選んで記号で答えなさい。




(外務省資料ほかより作成)

問2 インドの急速な発展は、英語や数学などの教育水準の高さによって支えられており、中でも情報技術産業において著しい発展が見られる。インドのシリコンバレーともよばれる都市を、次のア～エからひとつ選んで記号で答えなさい。

ア ジャカルタ イ シャンハイ ウ ウランバートル エ バンガロール

問3 近年インドの経済は急速に成長しており、世界の新興国のひとつとして注目されている。インドと同じように今後も高い成長が期待される4カ国を、英語の国名の頭文字をつなげて「BRICs」(ブリックス)とよぶが、インドの他の3カ国のうちのひとつを答えなさい。

問4 次の表1から読み取れる農業生産物の組み合わせとして適当なものを、下のア～エからひとつ選んで記号で答えなさい。



(『世界国勢図会2014/15』より作成)

ア A 綿花 B カカオ豆
 イ A 綿花 B コーヒー豆
 ウ A 茶 B コーヒー豆
 エ A 茶 B カカオ豆

(答えはすべて解答用紙に記入しなさい)

第2問 次のA～Iは歴史上の人物を説明した文章である。各問いに答えなさい。

A 仏教の崇拜をめぐって対立していた物部守屋を滅ぼして実権をにぎり、
(a) 天皇のもとで、摂政の聖徳太子と協力して政治改革を推進した。①日本最初の本格的な寺院を建てた。

B 父の (b) とともに摂関政治の全盛期を築いた。浄土への信仰があつく、
②京都の宇治に阿弥陀堂を建てたことから、「宇治の関白」とよばれる。

C 唐に留学して密教を学び、帰国後は高野山に金剛峯寺を建立して、真言宗を広めた。「 (c) 大師」とよばれ、書道の名手としても知られている。

D 征夷大將軍と太政大臣に就任して公家と武家の最高位を極め、明に対しても「日本国王」を名乗った。禅宗への信仰があつく、③京都の北山に別荘を建てた。

E 仏教の力によって、戦乱や疫病の流行から国家を守護しようと考え、都に (d) を、国ごとに国分寺と国分尼寺をそれぞれ建て、さらに (d) には大仏を造らせた。

F (d) を焼き打ちして大仏を焼失させた後、④一ノ谷の戦いの時に捕えられ、奈良に連行されて処刑された。処刑の直前に浄土宗を開いた (e) の弟子になったといわれる。

G 一向一揆や法華一揆、比叡山などの仏教勢力と戦う一方でキリスト教を保護し、⑤琵琶湖の東岸に築いた城下町に、宣教師を養成する学校の設立を許可した。

H 生類憐みの令を出して極端な動物愛護を行う一方で、母親の願いにより仏教の保護につとめ、護国寺をはじめとした寺院の造営に多額の資金を使った。

I 松下村塾で学び、明治維新後は岩倉遣欧使節に随行して、ヨーロッパ諸国を訪問した。帰国後は内閣制度や大日本帝国憲法の制定において中心的な役割を果たした。

問1 文章中の空欄 (a) ～ (e) にあてはまる語句を漢字で答えなさい。

問2 下線部①について、この寺院名として適当なものを、次のア～エからひとつ選んで記号で答えなさい。

ア 唐招提寺 イ 薬師寺 ウ 興福寺 エ 飛鳥寺

(答えはすべて解答用紙に記入しなさい)

問3 下線部②について、この阿弥陀堂にある阿弥陀如来像を造った仏師として適当なものを、次のア～エからひとつ選んで記号で答えなさい。

ア 運慶 イ 空也 ウ 定朝 エ 鑑真

問4 下線部③について、この別荘を示した写真として正しいものを、次のア～エからひとつ選んで記号で答えなさい。

ア



イ



ウ



エ



問5 下線部④について、この戦いを勝利に導いたが、のち兄の源頼朝と対立し、奥州平泉で滅ぼされた人物は誰か、漢字で答えなさい。

問6 下線部⑤について、この城下町として適当なものを、次のア～エからひとつ選んで記号で答えなさい。

ア 金沢 イ 春日山 ウ 一乗谷 エ 安土

問7 B～Fの文章を時代の古い順に並べ替えた場合、4番目に来るものをB～Fの記号で答えなさい。

問8 HとIの文章は誰を説明したものか、人物名を漢字でそれぞれ答えなさい。

(答えはすべて解答用紙に記入しなさい)

第3問 次の文章を読み、各問いに答えなさい。

日本国憲法では、「国会は、国権の最高機関であつて、国の唯一の（ A ）機関である」と明記されている。国会の議決は原則として両議院の一致によって成立するが、例外的に衆議院の議決を国会の議決とする。これを①衆議院の優越とよぶ。国会は、十分な審議と徹底した討論をおこない、国民に議案の内容と特色を丁寧に示す役割を負っている。②そのための新しい取り組みも多い。

一方、行政組織が強化される中で、政治家（国会議員）・官僚（国家公務員）・財界（企業）が結びつきを強めた結果、様々な問題も起きるようになった。③高級官僚が早期退職して特殊法人（公共の利益を確保するために設立された法人）や企業などに再就職することや、政治家が特定の業種に利害関係をもつことに対しても批判が高まった。そこで④政治家・官僚・財界の癒着（不正につながりあうこと）を防止し、行政の透明化を推進するために対策がとられている。

司法の役割は、国民の権利と自由を保障することである。2000年代より司法制度改革が進められ、裁判に多様な国民の声を反映させるために、2009年より⑤裁判員制度が実施されている。また裁判官、検察官、弁護士の人口拡大と人材の質の向上を目指して、2004年に⑥法科大学院（ロースクール）が設立され、新しい司法試験が導入されることになった。

問1 文章中の（ A ）にあてはまる語句を漢字2文字で答えなさい。

問2 下線部①について、衆議院の優越として適当でないものはどれか、次のア～エからひとつ選んで記号で答えなさい。

- ア 法律案の議決
- イ 予算の議決
- ウ 憲法改正の発議
- エ 内閣総理大臣の指名

問3 下線部②について、国会の新しい取り組みとして適当でないものはどれか、次のア～エからひとつ選んで記号で答えなさい。

- ア 党首討論
- イ 不逮捕特権
- ウ 副大臣・政務官導入
- エ 政府委員制度廃止

（答えはすべて解答用紙に記入しなさい）

問4 下線部③について、これを「〇〇り」とよぶ。〇〇にあてはまる漢字2文字を答えなさい。

問5 下線部④について、国民が行政を監視する制度を行政監察官制度とよぶが、行政監察官をカタカナ6文字で言いかえた語句として適当なものを、次のア～エからひとつ選んで記号で答えなさい。

- ア マニフェスト
- イ リバイアサン
- ウ オンブズマン
- エ コンツェルン

問6 下線部⑤について、裁判員制度の説明として適当でないものはどれか、次のア～エからひとつ選んで記号で答えなさい。

- ア 裁判員は公務員から選ぶ。
- イ 地方裁判所での刑事裁判で行われる。
- ウ 殺人などの重大事件について行われる。
- エ 学生は辞退ができる。

問7 下線部⑥について、法科大学院設置から10年以上が過ぎた現在の状況を説明した文として適当なものを、次のア～エからひとつ選んで記号で答えなさい。

- ア 法科大学院修了者と司法試験合格者はいずれも増加し、日本の弁護士の人口はアメリカとほぼ同数となった。
- イ 司法試験合格者は増加したが、法科大学院修了者は当初の計画ほど増加しなかったため、全国の大学で法科大学院の増設が続いている。
- ウ 法科大学院修了者は増加したが、司法試験合格者は当初の計画ほど増加しなかったため、法科大学院の減少が続いている。
- エ 法科大学院修了者と司法試験合格者はいずれも当初の計画ほど増加しなかったため、法科大学院と司法試験制度はすべて廃止された。

(答えはすべて解答用紙に記入しなさい)

第4問 次の【問題Ⅰ】【問題Ⅱ】の各問いに答えなさい。

【問題Ⅰ】2015年の日本での出来事に関するA～Cの文章を読み、問いに答えなさい。

A 2015年3月14日、①北陸新幹線が開通し、「この都道府県」の金沢駅と東京駅との間が、約2時間30分で結ばれることとなった。

B 2015年5月17日、「この都道府県」にある市を廃止し、5つの特別区を新設する構想への賛否を問う住民投票が行われた。結果は、反対票が賛成票を上回り、②反対多数で構想は否決された。

C 2015年6月5日、2016年5月に日本で開かれる③主要国首脳会議（サミット）の開催地が「この都道府県」にある志摩市に決定した。

問1 A～Cの文章中の「この都道府県」の組み合わせとして適当なものを、次のア～カからひとつ選んで記号で答えなさい。

	A	B	C
ア	福井県	大阪府	和歌山県
イ	福井県	兵庫県	和歌山県
ウ	石川県	大阪府	三重県
エ	石川県	兵庫県	三重県
オ	新潟県	大阪府	三重県
カ	新潟県	兵庫県	和歌山県

問2 下線部①について、北陸新幹線に関する説明として適当なものを、次のア～エからひとつ選んで記号で答えなさい。

ア 金沢－東京間を結ぶ最速の列車は「はやぶさ」という。

イ 北陸新幹線の開通により、大阪－富山間を直通で結ぶ列車が廃止された。

ウ 北陸新幹線の開通により、2015年現在、新幹線が通っていない都道府県は北海道と沖縄県のみとなった。

エ 北陸新幹線の運営はすべてJR東日本がおこなっている。

問3 下線部②の結果を受けて、次回の市長選に立候補しないことを表明した当時の市長を、次のア～エからひとつ選んで記号で答えなさい。

ア 橋下徹 イ 村井嘉浩 ウ 舛添要一 エ 翁長雄志

問4 下線部③について、2008年にも日本で主要国首脳会議（サミット）が開催された。この開催地として適当なものを、次のア～エからひとつ選んで記号で答えなさい。

ア 沖縄県名護市 イ 北海道洞爺湖町 ウ 京都府京都市 エ 宮城県仙台市

（答えはすべて解答用紙に記入しなさい）

【問題Ⅱ】世界遺産についての次の文章を読み、各問いに答えなさい。
(なお、本文や問題に登場する世界遺産登録地の名称は、略称である。)

2015年7月5日、ドイツで開かれていた①国際連合教育科学文化機関の世界遺産委員会で、日本政府が推薦した「明治日本の産業革命遺産」が世界遺産（文化遺産）に登録されることが決まった。2011年には平泉と **A** が、2013年には **B** ，2014年には②富岡製糸場がそれぞれ世界遺産に登録されている。

日本は、19世紀から20世紀初頭に、製鉄や造船、石炭産業の重工業分野に西洋の技術を取り入れた。「明治日本の産業革命遺産」は、日本が近代産業国家になったことを示すものであり、全国23か所から構成されている。

問1 下線部①について、この機関はアルファベットでどのように表記されるか、次のア～エからひとつ選んで記号で答えなさい。

ア UNICEF イ UNESCO ウ ODA エ PKO

問2 文章中の **A** ， **B** にあてはまる語句の組み合わせとして適当なものを、次のア～エからひとつ選んで記号で答えなさい。

	A	B
ア	厳島神社	知床
イ	厳島神社	富士山
ウ	小笠原諸島	知床
エ	小笠原諸島	富士山

問3 下線部②について、富岡製糸場がある都道府県名を漢字で答えなさい。

問4 「明治日本の産業革命遺産」に含まれないものを、次のア～エからひとつ選んで記号で答えなさい。

ア 旧グラバー住宅 イ 松下村塾 ウ 葦山反射炉 エ 原爆ドーム

(答えはすべて解答用紙に記入しなさい)

