

学校法人 仙台育英学園 秀光中等教育学校
2016年度 東京選抜試験

社 会

(第1問～第4問)

注意

- 試験開始の合図があるまで、問題用紙を開かないこと。
- この問題冊子は9ページあります。
- 答えはすべて解答用紙に記入しなさい。

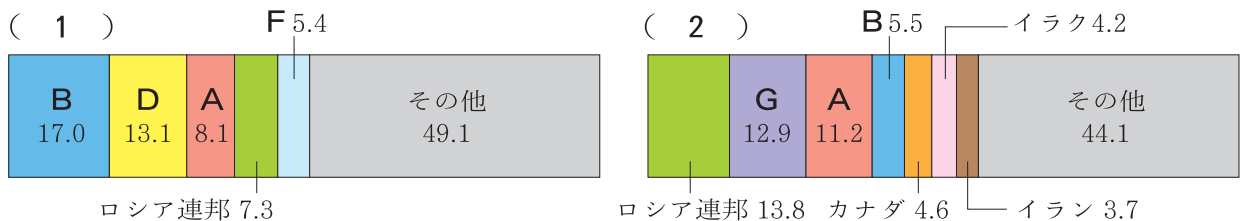
第1問 次の表1～3を見て、各問いに答えなさい。なお、表中の記号は国名を示し、同じ記号は同じ国であることを示している。

表1 ※ () 内は2013年のデータを示す。

順位	面積 (千km ²)	人口 (千人)	輸出額(百万ドル)	輸入額(百万ドル)
1	ロシア連邦 (17,098)	B (1,385,567)	B (2,210,250)	A (2,329,060)
2	カナダ (9,985)	D (1,252,140)	A (1,579,050)	B (1,950,380)
3	A (9,834)	A (320,051)	ドイツ (1,451,631)	ドイツ (1,192,751)
4	B (9,597)	インドネシア (249,866)	E (714,613)	E (832,424)
5	C (8,515)	C (200,362)	F (567,840)	F (671,019)
6	オーストラリア (7,692)	パキスタン (182,143)	オランダ (567,674)	イギリス (645,516)

(『日本国勢図会2015/16』より作成)

表2



(『日本国勢図会2015/16』より作成)

表3

特 色	国 名
西アジアに属する国	(G), トルコ, シリア, カタール
(3)	(H), デンマーク, イギリス, ベラルーシ
海に面していない国	モンゴル, (I), ハンガリー, アフガニスタン
(4)	カナダ, (A), エジプト, スーダン

(答えはすべて解答用紙に記入しなさい)

問1 表1は面積，人口，輸出額，輸入額がそれぞれ1位～6位の国をまとめたものである。表1中のA～Dにあてはまる国の組み合わせを，次のア～カからひとつ選んで記号で答えなさい。

	A	B	C	D
ア	中国	アメリカ合衆国	インド	ブラジル
イ	アメリカ合衆国	中国	ブラジル	インド
ウ	インド	アメリカ合衆国	中国	ブラジル
エ	アメリカ合衆国	中国	インド	ブラジル
オ	中国	アメリカ合衆国	ブラジル	インド
カ	インド	中国	ブラジル	アメリカ合衆国

問2 表1中のE，Fにあてはまる国名を答えなさい。

問3 表2は，農産物である（1）の生産量と，地下資源である（2）の産出量の国別の割合を，それぞれ示したものである。（1）と（2）に当てはまる産品の名称を答えなさい。

問4 表2，表3中のGの国について説明している文として適当なものを，次のア～エからひとつ選んで記号で答えなさい。

ア 略称をUAEといい，7つの首長国から成っている。首都はアブダビであるが，ドバイが貿易と商業の中心として2000年代に急速に繁栄したことで知られる。

イ 面積は世界第12位で，首都はリヤドである。国土の大部分は砂漠であるが，イスラム教の聖地であるメディナとメッカがあり，世界各地から巡礼者が訪れる。

ウ 19世紀にはインドとともにイギリスの支配下にあったが，1947年にイスラム教徒による国家として分離独立した。首都はイスラマバードである。

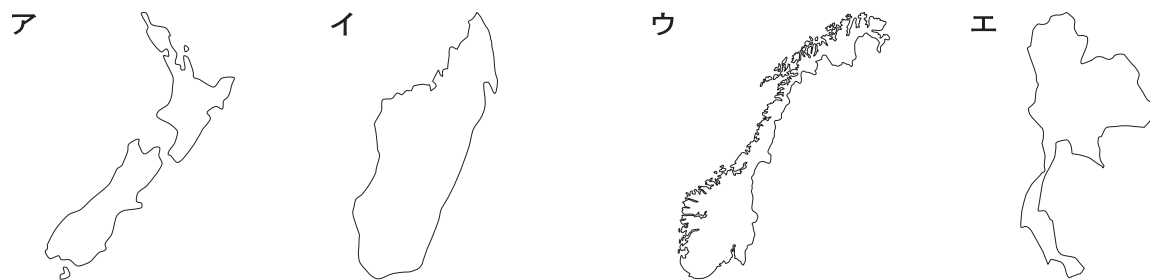
エ 四大文明の発祥地のひとつであり，紀元前3000年頃より王を中心とした国家が生まれ出された。首都カイロを中心に観光産業とスエズ運河収入で経済発展が進んでいる。

（答えはすべて解答用紙に記入しなさい）

問5 表3は、共通の特色を持つ国を4カ国ずつ選んでまとめたものである。表中の(3)、(4)にあてはまる特色を、次のア～オからひとつずつ選び、記号で答えなさい。

- ア 日本よりも高緯度に位置する国
- イ 日本よりも低緯度に位置する国
- ウ 中央アジアに属する国
- エ 海に囲まれている国
- オ 緯線や経線を利用した直線の国境線を持つ国

問6 表3のHにあてはまる国を示した図を、次のア～エからひとつ選び記号で答えなさい。



(※縮尺は同一ではない。)

問7 表3のIにあてはまる国を、次のア～エからひとつ選び記号で答えなさい。

- ア スイス イ ウルグアイ ウ ケニア エ マレーシア

(答えはすべて解答用紙に記入しなさい)

第2問 次のA～Hは歴史上の人物を説明した文章である。各問いに答えなさい。

A 日本の歴史の中で初めて個人名として現れる女性である。(a)の女王であり、まじないによる政治をおこなったと考えられている。中国の魏の皇帝に使いを送った。

B (b)の妻であり、子の義尚^{よしひさ}を将軍にするために(b)の弟の義視^{よしみ}との対立を深め、京都で11年間も続く戦乱の原因を作った。

C 一条天皇の中宮^{ちゅうぐう}(皇后と同格^{きさき}の後)で、後一条天皇と後朱雀天皇の母となった。『源氏物語』の著者である(c)が仕えたことでも知られている。

D 伊豆に流されていた(d)の妻となり、(d)の死後は子である頼家と実朝を補佐した。のち「尼将軍」とよばれて指導力を発揮し、①京都で起きた兵乱を平定した。

E (e)の次女で、建礼門院^{けんれいもんいん}と称した。高倉天皇の中宮となり安徳天皇を産んだが、都を追われた。壇ノ浦の戦いの時に海に身を投げたが助けられ、京都大原の②寂光院^{じゃっこういん}に住んだ。

F 蘇我馬子の支援のもとで天皇に即位し、摂政の聖徳太子とともに様々な政策を打ち出した。中国の隋に使いを送り、留学生に学問を学ばせた。

G 孝明天皇の妹で、皇族と婚約していたが、尊王攘夷運動の高まりの中で、その婚約を破棄して③将軍と結婚した。幕府と朝廷との関係を取り持とうとしたが、世の中の混乱は治まらなかった。

H 生活に苦しみながらも、女流作家として東京の下町を舞台に女性の悲哀を題材とした数多くの④小説を書いた。24歳の若さで死去したが、その内容はのちに高く評価された。

問1 文章中の空欄(a)～(e)にあてはまる語句を漢字で答えなさい。

問2 下線部①について、この兵乱と関係が深い人物を、次のア～エからひとつ選んで記号で答えなさい。

ア 後白河法皇 イ 聖武天皇 ウ 後醍醐天皇 エ 後鳥羽上皇

(答えはすべて解答用紙に記入しなさい)

問3 下線部②について、寂光院を示した写真として適当なものを、次のア～エからひとつ選んで記号で答えなさい。

ア



イ



ウ



エ



問4 下線部③について、この将軍の時に起きた出来事の説明として適当なものを、次のア～エからひとつ選んで記号で答えなさい。

- ア ロシアのプチャーチンが長崎に来航し、日露和親条約が締結された。
- イ 長州藩の兵が京都御所の蛤御門はまぐりごもん付近で、会津・薩摩両藩の兵と戦った。
- ウ 何者かが京都の近江屋を襲撃して、坂本龍馬と中岡慎太郎を殺害した。
- エ 勝海舟と西郷隆盛の話し合いによって、江戸城の無血開城が決定された。

問5 下線部④について、Hの人物の小説として適当なものを、次からひとつ選んで、記号で答えなさい。

- ア 『たけくらべ』 イ 『一握の砂』 ウ 『破戒』 エ 『春と修羅』

問6 B～Fの文章を時代の古い順に並べ替えた場合、3番目に来るものをB～Fの記号で答えなさい。

問7 Fの文章は誰を説明したものか、人物名を漢字で答えなさい。

(答えはすべて解答用紙に記入しなさい)

第3問 次の文章を読み、各問いに答えなさい。

民主主義の実現のためには、選挙が公正におこなわれなければならない。民主的な①選挙制度の原則は、日本国憲法の下でも保障されている。また選挙区制は、②小選挙区制や比例代表制などがある。小選挙区制は、各選挙区で得票数一位の候補者が当選する制度である。一方、比例代表制は一つの選挙区（比例区）の中で、各政党の得票数に比例して議席を配分する制度である。

現在は、衆議院において③小選挙区比例代表並立制が導入されている。これは295名を選出する小選挙区制と、全国11のブロックから180名を選出する比例代表制の組み合わせであり、小選挙区と比例代表の④両方に立候補することが認められている。なお参議院の定数は242名で、3年ごとに半数ずつ改選される。

日本の選挙制度にはさまざまな課題がある。第一は、⑤一票の格差の問題である。第二は、選挙運動の規制の問題である。第三は、⑥選挙権年齢の問題である。

問1 下線部①について、選挙の原則として**適当でないもの**を、次のア～エからひとつ選んで記号で答えなさい。

- ア 直接選挙
- イ 普通選挙
- ウ 公開選挙
- エ 平等選挙

問2 下線部②について、小選挙区制の特色として**適当でないもの**を、次のア～エからひとつ選んで記号で答えなさい。

- ア 政局が安定する。
- イ 少数派の意見が反映される。
- ウ 二大政党制を導く。
- エ 死票が多い。

問3 下線部③について、このしくみでは小選挙区と比例代表の両方に立候補できるため、^{せきはいりつ}惜敗率により復活当選ができることとなった。惜敗率を求める式として**適当なもの**を、次のア～エからひとつ選んで記号で答えなさい。

- | | | | |
|---|--------------------------------------------------|---|----------------------------------------------------|
| ア | $\frac{\text{落選者の得票数}}{\text{有効投票数}} \times 100$ | イ | $\frac{\text{当選者の得票数}}{\text{落選者の得票数}} \times 100$ |
| ウ | $\frac{\text{当選者の得票数}}{\text{有効投票数}} \times 100$ | エ | $\frac{\text{落選者の得票数}}{\text{当選者の得票数}} \times 100$ |

(答えはすべて解答用紙に記入しなさい)

問4 下線部④について、これを「〇〇立候補」制度という。〇〇にあてはまる漢字2文字を答えなさい。

問5 下線部⑤について、「一票の格差」問題についての最高裁判所判決として適当なものを、次のア～エからひとつ選んで記号で答えなさい。

ア 衆議院総選挙では格差2.43倍のとき、選挙そのものを無効と判断した。

イ 衆議院総選挙では格差2.43倍のとき、選挙そのものは有効であるが、格差は違憲状態と判断した。

ウ 参議院通常選挙では格差4.77倍のとき、選挙そのものを無効と判断した。

エ 参議院通常選挙では格差4.77倍のとき、選挙そのものは有効であり、格差も合憲状態と判断した。

問6 下線部⑥について、日本においても2015年6月に公職選挙法が改正され、選挙権年齢が変更されることになった。何歳から選挙権が行使されることになったか、次のア～エからひとつ選んで記号で答えなさい。

ア 16歳

イ 18歳

ウ 19歳

エ 25歳

問7 日本において女子の普通選挙が確立された年は西暦何年か、次のア～エからひとつ選んで記号で答えなさい。

ア 1889年

イ 1900年

ウ 1925年

エ 1945年

問8 投票率を上げるための工夫として**適当でないもの**を、次のア～エからひとつ選んで記号で答えなさい。

ア 投票時間を延長する

イ 棄権防止の呼びかけをする

ウ 不在者投票の理由を厳しくする

エ 期日前投票の条件を緩和する

(答えはすべて解答用紙に記入しなさい)

第4問 次のA～Fの文章を読み、各問いに答えなさい。なお、文章中の日付はすべて日本時間である。

A 2014年からクリミア共和国をめぐる紛争が続いていたウクライナでは、2015年に入って親ロシア派武装勢力とウクライナ軍の戦闘が激化した。2月12日、ベラルーシの首都ミンスクで行われていたウクライナ東部をめぐる和平協議で、①ウクライナ・ロシア・ドイツ・フランスの4か国首脳は停戦を実施することで合意した。

B 1954年、中国の周恩来首相とインドのネルー首相が会談し、平和五原則を発表した。翌1955年には、日本を含む29ヶ国が参加した②第1回アジア＝アフリカ会議がインドネシアで開催され、平和五原則に基づく平和十原則が採択された。それから60年が過ぎた2015年4月22日に、インドネシアのジャカルタでアジア・アフリカ会議60周年記念首脳会議が開催され、安倍晋三首相が出席した。

C 2015年は、日韓基本条約の締結によって、日本と韓国の国交が正常化して50年にあたり、6月22日に安倍晋三首相は韓国の外交部長官と首相官邸で会談を行った。日韓基本条約は、1910年の韓国併合以前に締結された条約や協定の無効を確認するとともに、韓国政府を「朝鮮にある唯一の合法的な政府」と認めたものであり、締結時の日本の首相は であった。

D 2015年10月15日に、日本は国際連合の③安全保障理事会の非常任理事国に選出された。任期は2016年から2017年までの2年間である。日本が非常任理事国になるのは11回目であり、国連加盟国の中で最多となる。

E 1961年以降、国交が断絶していたアメリカと は、2015年7月20日にワシントンとハバナにある両国の大使館を再開させ、54年ぶりに国交を回復させた。

F イギリスで開催されたラグビーのワールドカップで、2015年9月19日に日本代表が、2度の優勝経験がある を34－32で破り、24年ぶりの勝利をあげた。

問1 下線部①について、和平協議に参加した4ヶ国の首脳として適当でないものを、次のア～エからひとつ選んで記号で答えなさい。

- ア ウクライナ － メドヴェージェフ大統領
- イ ロシア － プーチン大統領
- ウ ドイツ － メルケル首相
- エ フランス － オランド大統領

問2 下線部②について、第1回アジア＝アフリカ会議は開催されたインドネシアの都市名から「○○○○会議」とも呼ばれるが、○○○○にあてはまる都市名を答えなさい。

(答えはすべて解答用紙に記入しなさい)








問3 文中 **a** にあてはまる人物を，次のア～エからひとつ選んで記号で答えなさい。

ア 田中角栄 イ 佐藤栄作 ウ 岸信介 エ 吉田茂

問4 下線部③について，国際連合の安全保障理事会の説明として**適当でないもの**を，次のア～エからひとつ選んで記号で答えなさい。

- ア 常任理事国とは，アメリカ・イギリス・フランス・ロシア・中国の5か国である。
- イ 非常任理事国は，1965年以降10か国と定められている。
- ウ 非常任理事国の再任は，2期まで認められている。
- エ 意思決定は9理事国以上の賛成によるが，常任理事国には「拒否権」が認められている。

問5 文中 **b**， **c** に当てはまる国の国旗の組み合わせとして**適当なもの**を，次のア～エから選びなさい。

	b	c
ア		
イ		
ウ		
エ		

問6 2015年に世界で起きた出来事として**適当なもの**を，次のア～エからひとつ選んで記号で答えなさい。

- ア イギリス王室のウィリアム王子とキャサリン^ひ妃夫妻に，第2子となる王女が誕生し，「シャーロット」と名付けられた。
- イ アメリカのハワイ州にある山で，アメリカ合衆国最高峰の「マッキンリー」が，先住民による呼称である「デナリ」と改称された。
- ウ 2022年の冬季オリンピックの開催地が，中国の上海に決定した。
- エ ギリシャで，欧州連合（EU）から提示されていた財政再建策受け入れの賛否を問う国民投票が行われ，財政再建策受け入れに賛成が多数を占めた。

（答えはすべて解答用紙に記入しなさい）

